



**AHMET HAZIM ULUŞAHİN İMAM
HATİP ORTAOKULU
5. SINIF ÖĞRENCİ KABUL SINAVI
2024**

Adı Soyadı :
Okulu :
T.C. Kimlik No :

ALANLAR	SORU SAYISI	TOPLAM SORU SAYISI	SÜRE
TÜRKÇE	15	70 SORU	100 DAKİKA
MATEMATİK	15		
FEN BİLİMLERİ	15		
SOSYAL BİLGİLER	10		
DİN KÜL.AH.BİL.	10		
İNGİLİZCE	5		

1. Sınav süresince gözetmenlerin uyarılarına dikkat ediniz.
2. Sınav süresince kitap, sözlük veya elektronik araçları yanınızda bulundurmuyunuz.
3. Cevap kağıdınızdaki bilgilerin doğruluğunu kontrol ediniz.
4. Kitapçık üzerindeki ad-soyad, sınıf-no, okul bilgileriniz kodlamayı unutmayınız.
5. Cevap kağıdınız üzerinde bulunan kitapçık türünü doğru kodladığınızdan emin olunuz.
6. Sınavın değerlendirilmesi optik okuma araçları ve elektronik ortamda yapılacağından ikili veya toplu kopya çekilmesi tespit edilmektedir. Bu gibi durumlarda sınavınız geçersiz sayılacaktır.
7. Cevap kağıdı üzerinde kurşun kalemle işaretleme yapınız. Değiştirmek istediğiniz cevabınızı yumuşak silgi ile iz bırakmadan siliniz. Cevap kağıdınızı buruşturmayınız ve katlamayınız.
8. Soru kitapçığınızı sınav başlamadan kontrol ediniz. Eksik sayfa varsa değiştirilmesini isteyiniz.
9. Sınav bitiminde cevap kağıdınızı teslim etmeyi unutmayınız. Her sorunun bir doğru cevabı bulunmaktadır.
10. Başlayınız denilmeden kitapçığınızı açmayınız.
11. TC Kimlik numaranızı cevap formu üzerindeki alana dikkatli kodlayınız.

1. Trafikte uyulması gereken hız limitleri aşağıdaki tabloda gösterilmektedir.

Trafikte Hız Limitleri				
(Karayolları Trafik Yönetmeliği - 100.Madde)				
	Şehir İçi	Ş. arası Çift Yönlü Karayolu	Ş. arası Bölünmüş Karayolu	Otoyol
 Bisiklet	30	45	45	YASAK
 Motosiklet	50	80	90	100
 Otomobil	50	90	110	120
 Minibüs	50	80	90	100
 Otobüs	50	80	90	100
 Kamyon	50	80	85	90

Metin, bayramda dedesini ziyaret etmek için otobüsle yolculuğa çıkmıştır. Otobüs önce şehir içindeki otogardan hareket etmiş ve bir süre sonra şehirlerarası çift yönlü karayoluna çıkmıştır. Sonrasında ise otoyola girerek yoluna devam etmiştir.

Buna göre Metin'in bindiği aracın uyması gereken hız limitleri sırasıyla aşağıdakilerden hangisinde verilmiştir?

- A) 50 – 80 – 100
B) 50 – 80 – 90
C) 50 – 90 – 100
D) 50 – 90 – 120

2. Aşağıdaki cümlelerden hangisinin sonuna ünlem işareti getirilmelidir?

- A) Eyvah, otobüsümü kaçırdım
B) Çarşı bugün tıklım tıklım kalabalıktı
C) Maç bu defa nasıl oldu da berabere bitti
D) Nasıl çalışmam gerektiğini bir türlü öğrenemedim

3. Ne zaman telefonla görüşsem geliyorum diyor her seferinde bir bahaneyle sonradan vazgeçiyor.

Cümlede boş bırakılan yere aşağıdakilerden hangisi getirilmelidir?

- A) ile
B) bile
C) gibi
D) ancak

4. Aşağıdaki cümlelerin hangisinde kişisel (öznel) bir görüş vardır?

- A) Maç doksan dakika ve bir de uzatmaları var.
B) Bu ürünün rafta yazan fiyatı 15 TL'dir.
C) Karadeniz'in suları soğuktur ama en bereketli denizdir.
D) Bu arabada takılı dört lastik yanında bir de yedek lastik var.

5. Yapım ekleri, eklendiği sözcükten yeni bir sözcük türetir. Yapım eki alan sözcük yeni bir anlam kazanır ve bu kelimeye türemiş sözcük denir.

Aşağıdaki altı çizili kelimelerden hangisi türemiş bir sözcüktür?

- A) Bir fırça darbesiyle tüm resmi değiştirdi.
B) Altındaki sandale gıcırta yapıyordu.
C) Tüm yaşamı gözünün önünden kayıp geçti.
D) Şapkacı en güzel ürünlerini tezgâha seriyordu.

6. Aşağıdaki cümlelerde geçen altı çizili sözcüklerin hangisinde yazım yanlışı yoktur?

- A) Çanakkale Savaşı sırasında sayısız kahramanlıklar yaşanmıştır.
 B) Tarih, yarışmalarda 2.nci gelenleri kaydetmez.
 C) Ev de benden başka iki kişi daha yaşıyor.
 D) Bilinki sizi zor bir durumdan kurtarmaya çalışıyorum.

7. Marketten gelirken verdiğim siparişlerin hemen hemen tamamını yüklenip getirmişti.

Altı çizili sözcük grubunun cümleye kattığı anlamı aşağıdakilerden hangisi açıklamaktadır?

- A) Çabuk çabuk
 B) Zorlansa bile
 C) En hızlı şekilde
 D) Neredeyse

8. Ülkemiz Türkiye son yıllarda insansız hava aracı üretiminde büyük atılımlar yaptı. Yerli ve milli araçlarımız göklerde uçarak ülkemiz güvenliğine büyük katkılar sağlamaktadır. Bu araçları geliştiren mühendis ve çalışanlarımıza şükran borçlu olduğumuzu hiç unutmamalıyız.

Parçaya göre aşağıdaki bilgilerden hangisinin doğruluğu kesin değildir?

- A) Türkiye, insansız hava araçları üretmektedir.
 B) Güvenliğimizi yalnızca insansız hava araçları sağlamaktadır.
 C) İnsansız hava araçlarını yapanlara minnettar olmalıyız.
 D) İnsansız hava araçlarımızı kendi imkânlarımızla üretmeye başladık.

(Sonraki 2 soruyu aşağıdaki parçaya göre cevaplayınız.)

Hepimiz içinde yaşadığımız toplumun bir parçasıyız. Birbirimizden farklı pek çok özelliğe sahibiz. Farklı özelliklerimizin olması da gayet doğaldır. Ancak bizi toplum yapan ise bir arada yaşama kültürüne sahip olmamızdır. Farklılıkları çatışma nedeni olarak görmek yerine toplumumuzun zenginlikleri olarak görebildiğimiz kadar huzurlu ve mutlu oluruz.

9. Verilen metinden aşağıdakilerden hangisi çıkarılabilir?

- A) Farklı milletlerin arasında sorun olması doğaldır.
 B) Huzurlu bir toplum olmanın yollarından biri farklılıkları hoş görmektir.
 C) Sosyal İlişkilerde ihtiyaçların giderilmesi önemli bir konudur.
 D) Zengin olmak isteyen toplumlar üretme önem vermelidir.

10. Metinde aşağıdaki sorulardan hangisinin cevabı bulunmaktadır?

- A) Bizi diğer toplumlardan hangi özelliklerimiz ayırır?
 B) Bireysel ihtiyaçlarımız nasıl karşılanmalıdır?
 C) Toplumda huzurun artması için ne yapılmalıdır?
 D) Teknolojik gelişmeleri topluma kazandıracığı yarar nedir?

11. I- Nedenini bana söylememeni bir türlü anlamıyorum

II- Dün yine nasıl olduğunu sormaya gittim

III- Ne kadar zaman sonra geldi

Verilen cümlelerin hangisinin sonuna soru işareti getirilmelidir?

- A) Yalnız III
B) I ve II
C) II ve III
D) I, II ve III

12. (1) Uzun süren yağmur yağışı sonrası toprak yeniden kupkuru olmuştu. (2) Güneşi gören herkes tertemiz havayı solumak için kendini dışarı attı. (3) Uçsuz bucaksız mavilikte gökyüzü insanın başını döndürüyordu. (4) Doğa adeta yenilenmiş, her yer yemyeşil olmuştu.

Bu metindeki numaralandırılmış cümlelerden hangisinde pekiştirilmiş bir sözcük bulunmamaktadır?

- A) 1. B) 2. C) 3. D) 4.

13. Bir kimsenin kendi fikrine uygun gördüğü ama doğruluğu kesin olarak ispatlanamayan düşüncelere kişisel görüş denir. Aynı görüş başka kimseler tarafından kabul görmeyebilir çünkü kesinlik arz eden verilere dayanmamaktadır.

Buna göre aşağıdaki cümlelerin hangisinde kişisel bir görüş vardır?

- A) LGS sınavı Haziran ayına ertelendi.
B) Çocukluğumun geçtiği bu mahalle memleketimin en güzel yeridir.
C) 4-B sınıfında okuyorum.
D) Ailem dört kişiden oluşmaktadır.

14. Aşağıdaki cümlelerin hangisinde zıt (karşıt) anlamlı sözcükler bir arada kullanılmamıştır?

- A) Elindeki az bir malzemeyle iyi kötü bir şeyler yapmaya çalıştı.
B) Gözümü açtığımda bir de baktım ki ellerim bomboş.
C) Azla yetinmesini bilmeyen çoğu bulamaz.
D) Eskiler bile bu anıyı zor hatırlarken yeniler hiç bilmez.

15. Merve, arkadaşlarının sorusuna sular seller gibi çalıştığını söyleyerek cevap verdi.

Verilen cümlede Merve'nin çalışması hakkında aşağıdakilerden hangisine değinilmiştir?

- A) Arkadaşlarıyla birlikte çalıştığı
B) Farklı yöntemler kullanarak çalıştığı
C) Çalışırken sıkıldığı
D) Çalışmasının çokluğu

Türkçe testi sona ermiştir. Lütfen Diğer Teste Geçiniz.

Cevap Formunuzda Cevaplarınızı Bir Sonraki Bölüme Kodlayınız.

1. Bir araç A şehrinden B şehrine doğru saatte ortalama 110 km hızla hiç durmadan 2 saat gittikten sonra mola veriyor. Moladan sonra araç ortalama hızını 90 km'ye düşürüp 3 saat daha yol alıyor. Bu şekilde B şehrine 80 km kala yakıt almak için bir mola daha veriyor.

Buna göre A ve B şehirleri arasındaki yolun toplam uzunluğu kaç km'dir?

- A) 220
B) 490
C) 570
D) 590

2.



Yukarıdaki bilgisayar, 750 TL peşin, kalanı 9 ay boyunca 375 TL taksitle ödenerek alınacaktır.

Buna göre bilgisayarın toplam fiyatı kaç TL'dir?

- A) 2575
B) 3150
C) 3625
D) 4125

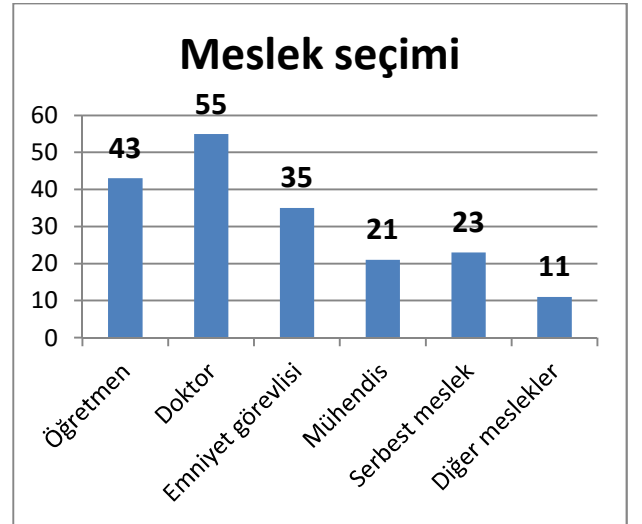
3.

$$\begin{array}{r} \triangle 8 3 \\ + 7 \star \bullet \\ \hline 1 2 3 9 \end{array}$$

Verilen ●, ▲ ve ★ sembolleriyle gösterilen rakamların sayı değeri toplamı aşağıdakilerden hangisidir?

- A) 9
B) 13
C) 15
D) 23

4. Aşağıdaki grafikte bir okuldaki öğrencilerin seçmeyi düşündüğü meslekler gösterilmiştir.



Grafiğe göre aşağıdakilerden hangisi yanlıştır?

- A) Serbest meslek sahibi veya mühendis olmak isteyenler sayıca yakındır.
B) Okuldaki öğrenciler arasında en çok beğenilen meslek doktorluktur.
C) Serbest meslek sahibi olmak isteyenlerin tümü fikir değiştirip mühendis olmaya karar verselerdi mühendislik en çok istenen meslek olacaktı.
D) Tablodaki mesleklerden farklı bir meslek sahibi olmak isteyenler sayıca en az olan gruptur.

5. Bir TV programı tam olarak saat 14:45'te başlar. 25 dakika sonra 3 dakikalık bir reklama girer. Sonrasında programın ikinci bölümü 34 dakika sürer. İkinci defa reklama girer. Bu reklam da tam olarak 4 dakika sürmüştür. Geriye programın bitmesine 16 dakikalık son bölüm kalmıştır.

Buna göre programın bitiş saati aşağıdakilerden hangisidir?

- A) 15:13
B) 15:47
C) 15:51
D) 16:07

6. **5 – 11 – 23 - - 95**

Sayı dizisinde her bir sayı bir önceki sayının 2 katının 1 fazlası olarak yazılmıştır.

Buna göre boş bırakılan yere aşağıdakilerden hangisi getirilmelidir?

- A) 34
B) 47
C) 67
D) 76

7. Bir sinema salonunda 16 sıra koltuk vardır. Her sırada 15 koltuk bulunmaktadır. Film gösterisi başladığında koltukların $\frac{3}{5}$ 'i dolmuştur.

Buna göre gösteriyi kaç kişi izlemiştir?

- A) 36
B) 72
C) 144
D) 288

8. Bir atölyede işçiler bir gün içinde 4 grup halinde çalışmaktadır. Her grupta 12'şer işçi bulunmaktadır. Bu işçiler bir günde sekiz saat çalışmaktadır. Ancak yarısı akşam bir saat fazla mesai yapmaktadır.

Buna göre gün sonunda bu fabrikada toplam kaç saat çalışılmış olmaktadır?

- A) 354
B) 360
C) 388
D) 408

9.

Görseldeki kesir şekli ile ilgili aşağıdakilerden hangisi yanlıştır?

- A) Taralı olmayan alanın yazılışı bileşik bir kesirdir.
B) Taralı alanın kesir olarak yazılışı $\frac{11}{24}$ tür.
C) Bu şekil 24 eşit parçaya ayrılmıştır.
D) Boyanan ve boyanmayan bölgelerin alanlarının farkı $\frac{2}{24}$ tür.

10. Binler bölümünde 323, birler bölümünde ise 350 olan sayının okunuşu aşağıdakilerden hangisidir?

- A) Üç yüz yirmi üç bin üç yüz elli
- B) Yirmi üç bin üç yüz elli
- C) Üç yüz elli bin üç yüz yirmi üç
- D) İki yüz otuz bin üç yüz elli

11. 26046, 93574, 14555, 48930 ve X sayıları büyükten küçüğe doğru sıralanacaktır. Bu beş sayı içinde yer alan ve kaç olduğu bilinmeyen X sayısı, bu sıralamada 3. olarak yer almıştır.

Buna göre X sayısı aşağıdakilerden hangisi olabilir?

- A) 49980
- B) 23870
- C) 33002
- D) 15989

12.

$$\begin{array}{r} 4235 \\ - 3368 \\ \hline \end{array}$$

Yukarıdaki işlemde eksilen ve çıkanın en yakın yüzlüğe yuvarladığınızda tahmini ve gerçek sonuçlar arasındaki fark kaçtır?

- A) 27
- B) 67
- C) 126
- D) 867

13. "0 - 5 - 7 - 2" rakamlarının tümü yalnızca birer kere kullanılarak yazılabilecek en büyük dört basamaklı doğal sayı ile en küçük dört basamaklı doğal sayının farkı aşağıdakilerden hangisidir?

- A) 3490
- B) 5463
- C) 2026
- D) 5644

14. Kalanlı bir bölme işleminde bölen 9, bölüm 27 ise bölünen en çok kaç olabilir?

- A) 243
- B) 244
- C) 250
- D) 251

15. Toplam fiyatının $\frac{1}{9}$ 'u 110 TL olan bir cep telefonunun 330 TL'si ödenmiştir.

Buna göre bu cep telefonu için geriye kaç TL ödenmesi gerekmektedir?

- A) 660
- B) 440
- C) 580
- D) 990

Matematik testi sona ermiştir. Lütfen Diğer Teste Geçiniz.

Cevap Formunuzda Cevaplarınızı Bir Sonraki Bölüme Kodlayınız.

1. Ali, küçük bir kaza geçirmiş ve kolunu kırmıştı. Muayene ve alçı işleminden sonra doktor kemiklerini güçlendirecek besinler alması gerektiğini söyledi.

Ali, doktorun tavsiyesine uymak için aşağıdakilerden hangisini sıklıkla tüketmelidir?

- A) Süt
B) Ekmek
C) Meyve
D) Ispanak

2. Milli takım için sporcu seçmelerine hazırlanan bir koşucu kilosuna dikkat etmek zorundadır. Yedikleri nedeniyle aşırı kilo almamalı, sağlıklı beslenmeye özen göstermelidir. Hatta fazla kilosu varsa sağlıklı ve kilo almasına neden olacak yiyeceklerden uzak durmalıdır.

Buna göre bu sporcunun akşam yemeği listesi aşağıdakilerden hangisi olabilir?

- A) Balık, salata, meyve
B) Kremalı pasta, şekerli içecek
C) Patates kızartması, köfte, kola
D) Tereyağlı börek, cips, ayran

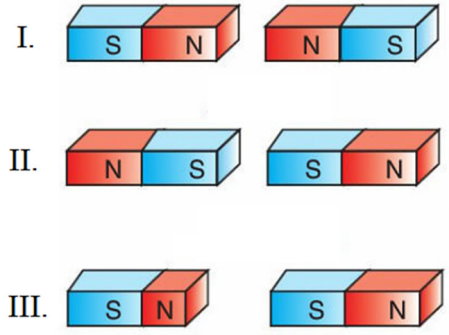
3. Kuvvetin cisimler üzerinde çeşitli etkiler vardır. Örneğin kuvvet;

- I- Duran cisimleri hareket ettirebilir.
II- Hareket halindeki cisimleri yavaşlatabilir.
III- Cisimlerin şeklini değiştirebilir.

Aşağıdakilerden hangisi yukarıda verilen kuvvetin etkilerinden birine örnek gösterilemez?

- A) Yokuş aşağı kayan bir aracın önüne geçip hızının azaltılması
B) Üzerine basılan teneke kutunun eğilip bükülmesi
C) Salondaki kanepenin arkasından itilerek yerinin değiştirilmesi
D) Yaklaşan bir topa raketle vurularak yönünün değiştirilmesi

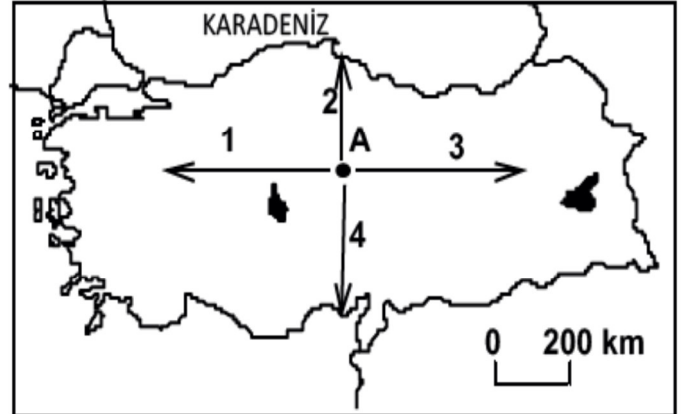
4.



Verilen gruplardaki mıknatıslarla ilgili aşağıdaki bilgilerden hangisi yanlıştır?

- A) I numaralı gruptaki mıknatıslar birbirini iter.
B) II numaralı gruptaki mıknatıslar birbirini çeker.
C) III numaralı gruptaki mıknatıslar birbirini çeker.
D) Mıknatıslarda biri kuzeyi diğeri güneyi gösteren iki kutup vardır.

5. Aşağıdaki haritada A noktasında bulunan bir kimsenin gidebileceği dört farklı yön rakamlar ve ok işaretleri ile gösterilmiştir.



Buna göre A noktasından hangi yöne doğru gidildiğinde güneşin diğer noktalara oranla daha geç battığı bir yere ulaşılmış olur?

- A) 1
B) 2
C) 3
D) 4

6.



Görselde yapılan ölçüm aşağıdakilerden hangisine aittir?

- A) Hacim
- B) Uzunluk
- C) Kütle
- D) Sıcaklık

7. Gece yıldızları görmek isterseniz şehir dışına çıkmalısınız. Çünkü şehirlerden yansıyan parlaklık gökyüzüne yansır ve yıldızların görülmesini zorlaştırır.

Metinde gece yıldızların gözlenmesinde aşağıdakilerden hangisinin olumsuz etkisine işaret edilmiştir?

- A) Işık kirliliği
- B) Ses kirliliği
- C) Deniz kirliliği
- D) Çevre kirliliği

8.



Görselde mıknatısın madeni parayı çekmediği gösterilmektedir. Madeni paralar iki farklı elementten yapılmaktadır. Bunlardan biri temelde mıknatısın çektiği bir maddedir ancak miktar olarak madeni para içinde az bulunmaktadır. Madeni parayı oluşturan diğer madde ise mıknatısın çekmediği bir metaldir ve çoğunluğu oluşturduğu için mıknatısın manyetizmasını engellemektedir.

Buna göre madeni paralarda çoğunluğu oluşturan metal aşağıdakilerden hangisi olabilir?

- A) Bakır
- B) Demir
- C) Nikel
- D) Kobalt

9. I. Normal şartlarda sert olan asfalt bir yolun aşırı sıcaklarda erimesi
II. Akışkan bir maddenin dondurucuda bekletilip sertleştirilmesi
III. Kartona gelen sert bir cismin onda bir delik açması

Verilenlerden hangisi maddenin hal değişimine örnektir?

- A) Yalnız II
- B) I ve II
- C) II ve III
- D) I, II ve III

10. Sert ve ısıya dayanıklı olmasıyla bilinen bir madendir. Özellikle ısıya dayanıklı olması askeri, uzay ve bilgisayar alanında kullanılmasını sağlamıştır. Gelişen uzay teknolojisi için hem üretim hem de yakıt olarak kullanılabilir. Dünya rezervinin büyük bölümü Türkiye’de bulunmaktadır. Son zamanlarda ülkemizde de özellikle ilaç, kimya ve deterjan üretiminde kullanılmaya başlanmıştır.

Metinde hangi madene ait bilgi verilmektedir?

- A) Bor
- B) Altın
- C) Çelik
- D) Alüminyum

11. I- Yer kabuğunun en üst katmanını oluşturan toprak, kaya ve taş parçalarına denir.

II- Ölen bir canlının ölüm sırasında veya hemen sonrasında hızlı bir şekilde havayla temasının kesilmesi ile oluşur. Bu canlının kalıntısı hava ile temas etmediği sürece binlerce yıl bozulmadan kalabilir.

Tanımı yapılan kavramlar sırasıyla aşağıdakilerden hangisinde verilmiştir?

- A) Fosil - mineral
- B) Kayaç - fosil
- C) Mineral - kum
- D) Maden – fosil

12. I. Kaya
II. Fosil
III. Çakıl
IV. Kum

Verilenlerden hangisi kayaçların çeşitli etkenlerce parçalanması sonucu oluşan maddelerdendir?

- A) Yalnız III
- B) II ve IV
- C) I, II ve III
- D) I, III ve IV

13. Yerkabuğunda bulunan bazı kayaçlar ekonomik açıdan çok değerlidir. Bunlara maden adı verilir ve pek çok eşyanın üretiminde kullanılırlar. Örneğin ...

Aşağıdakilerden hangisi bu metnin sonuna örnek olarak getirilemez?

- A) Bakır tepsi
- B) Altın bilezik
- C) Gümüş kolye
- D) Tahta kaşık

14. I. Suyun buzlukta donması
II. Üzerine basılan teneke kutunun eğilip bükülmesi
III. Sıcak bir günde deniz suyunun aşırı miktarda buharlaşması

Verilenlerden hangisi maddenin hal değişimine örnektir?

- A) Yalnız II
- B) I ve II
- C) I ve III
- D) I, II ve III

15. Dünya’mızın Güneş çevresindeki hareketi ile ilgili aşağıda verilen bilgilerden hangisi doğru değildir?

- A) 365 gün 6 saatte tamamlanır.
- B) Gece ve gündüz oluşumunu sağlar.
- C) Bir tam dolanımına “Yıllık hareket” adı verilir.
- D) Buna “dolanma hareketi” de denir.

Fen Bilimleri testi sona ermiştir. Lütfen Diğer Teste Geçiniz.

Cevap Formunuzda Cevaplarınızı Bir Sonraki Bölüme Kodlayınız.

1. Aile tarihini oluşturmak isteyen bir kimsenin görüşme listesinde aşağıdakilerden hangisi bulunmalıdır?

- A) En yakın arkadaşı
- B) Ortaokul öğretmeni
- C) Dedesi
- D) Yeni komşusu

2. Osmanlı Devleti 30 Ekim 1918'de imzaladığı Mondros Ateşkes Anlaşması'yla kendini savunamaz hale gelmişti. Ordusu terhis edilmiş, silahlarına el konulmuştu. İngiltere, Fransa ve İtalya ateşkes anlaşmasına dayanarak limanlarımızı, demir yollarımızı ve telgrafhanelerimizi denetimleri altına aldı, pek çok yeri işgal etti. Bu gelişmeler üzerine 19 Mayıs 1919'da ilimize ulaşan Mustafa Kemal Paşa milli mücadeleyi buradan başlatmıştır.

Kurtuluş Savaşımızın başladığı bu şehrimiz aşağıdakilerden hangisidir?

- A) Gaziantep
- B) Samsun
- C) Ankara
- D) İzmir

3. Urfa, Mondros Ateşkes Antlaşması uyarınca Fransızlar tarafından 1919 yılında işgal edilecekti. Ancak şehrin Jandarma Komutanı bu şehrin Fransızlara karşı başlattığı direniş ve milli mücadeleye hareketini yönetti. Sonunda Fransızların şehirden atılmasını sağladı.

Urfa'nın Fransızlara karşı yürüttüğü milli mücadeleye liderlik eden dönemin komutanı aşağıdakilerden hangisidir?

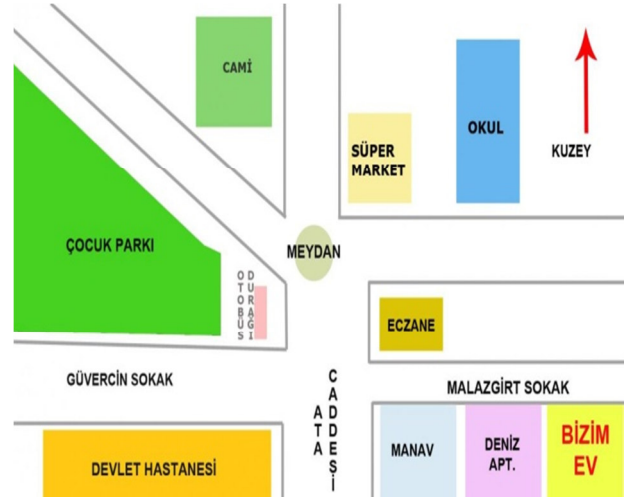
- A) Kazım Karabekir
- B) Şahin Bey
- C) Ali Saip Bey
- D) Fevzi Çakmak

4. I. Sultan Ahmet Camii
II. Mardin Kasımiye Medresesi
III. Isparta halıları

Verilenlerden hangisi ülkemizde bulunan milli kültür öğelerimizden sayılmaktadır?

- A) Yalnız II
- B) I ve III
- C) II ve III
- D) I, II ve III

5. Cemre, mahallesinin ve yaşadığı evin çevresinin krokisini çizmişti. Kroki üzerinde yaşadığı evi "BİZİM EV" olarak göstermişti.



Buna göre bu krokiden Cemre'nin yaşadığı yerle ilgili aşağıdaki bilgilerden hangisine ulaşamaz?

- A) Cemre, nüfus olarak kalabalık bir yerde yaşamaktadır.
- B) Cemre, evden okula gitmek için kuzeye doğru hareket etmelidir.
- C) Cemre'nin evi ile Deniz Apartmanı birbirine komşudur.
- D) Cemre, Devlet Hastanesine kısa yoldan gitmek için Ata Caddesini geçip Güvercin Sokağa girmelidir.

6. Ne kadar benzer olsak da hepimizin doğuştan getirdiğimiz farklı özelliklerimiz var. Bunlar yalnızca bireye özgü özellikler olup dünya üzerinde başka kimsede bulunmaz. Örneğin gözümüzdeki iris tabakası her insanda farklıdır. Herkesin göz retinası yalnızca ona özgüdür. Başka bir kimsede bulunmaz. Bizi diğer insanlardan ayıran ve herkeste farklı olan bir özellik daha bulunmaktadır.

Metnin sonunda değinilen bu özellik aşağıdakilerden hangisidir?

- A) Ten rengi
B) Saç şekli
C) Parmak izi
D) Diş sayısı

7. Hepimiz bugüne kadar pek çok olay yaşamışızdır. Ancak hayat öykümüzü anlatmamız istendiğinde hayat öykümüzde bu olayların hepsine yer vermeyiz. Sadece hayatımızda önemli gördüğümüz, bizi etkileyen, unutamadığımız olayları anlatırız.

Metne göre yaşam öyküsünü anlatmak isteyen bir kimse konuşmasında aşağıdakilerden hangisine değinmelidir?

- A) Hangi tarihte doğduğuna
B) Hangi şehirlerde yaşadığına
C) İlkokulu nerede tamamladığına
D) Sabah kahvaltıda ne yediğine

8. Sinan: "Arkadaşlar! İki yıl önce okulumda yapılan basketbol takımı seçmelerine katıldım. Çok hoşuma gitmişti. O yıl seçilemedim ancak ertesini yıl tekrar katılmaya karar verdim. Her gün evimizin yakınındaki basketbol sahasında düzenli olarak çalışıyorum."

Metne göre Sinan'ın aşağıdaki alanlardan hangisine ilgisi olduğu söylenebilir?

- A) Bilişim
B) Spor
C) Tiyatro
D) Müzik

9. * 2009 yılının Kasım ayında Bursa'da doğdum.
* 2013 yılında bir erkek kardeşim oldu.
* 2015 yılında ilkokula başladım.
* 2017 yılında satranç turnuvasında okul 3.sü oldum.
* 2018 yılında babamın işi gereği Konya'ya taşındık.
* 2019 yılının Eylül ayında ortaokula başladım.

Erdem'in yukarıdaki kronolojisinden aşağıdaki bilgilerden hangisine ulaşamaz?

- A) Şu an 6. Sınıfta eğitim görmektedir.
B) En az 1 kardeşi vardır.
C) Farklı şehirlerde yaşamıştır
D) Zekâ oyunlarında derecesi vardır.

10.



Merve, görseldeki logoyu defterinin en güzel yerine çizip boyamayı çok severdi. Bazı zamanlar kendisini bu logonun ait olduğu kurumun bir ferdi olarak hayal ederdi. İhtiyaç sahiplerine, afetlerde zarar görenlere destek kampanyaları olduğunda ise hep en önde o olurdu.

Buna göre Merve'nin okulda katılması gereken eğitici kulüp aşağıdakilerden hangisidir?

- A) Bilim ve Teknoloji Kulübü
B) Kızılay Kulübü
C) Çevre Koruma Kulübü
D) Bilinçli Tüketici Kulübü

Sosyal Bilgiler testi sona ermiştir. Lütfen Diğer Teste Geçiniz.

Cevap Formunuzda Cevaplarınızı Bir Sonraki Bölüme Kodlayınız.

1. Hz. Muhammed (s.a.v.) bir hadisinde "Oruç bir kalkandır; sakın bir kimse oruçluysen cahillik edip de kötü söz söylemesin. Birisi sataşır veya kötü söz söyleyecek olursa 'Ben oruçluyum, ben oruçluyum' desin." buyurmuştur.

Bu hadis oruçla ilgili aşağıdakilerden hangisini açıklamaktadır?

- A) Davranışları güzelleştirmesi gerektiğine
B) İhtiyaç sahiplerini gözetmenin önemine
C) Fakir insanların ihtiyaçlarını giderdiğine
D) Düşmanlara karşı toplumu güçlendirdiğine

2. Kur'an-ı Kerim sureleri;

I. Toplam sayıları 114'tür.

II. İsimlerini içinde geçen bir olaydan veya konudan alabilirler.

III. Bazıları peygamberlerin isimleriyle isimlendirilmiştir.

Kur'an-ı Kerim sureleri hakkında yukarıda verilenlerden hangisi söylenir?

- A) Yalnız II
B) I ve II
C) II ve III
D) I, II ve III

3. Hz. Peygamber hicretten sonra Medine'de bir süre Ebu Eyyüb adındaki sahabinin evinde misafir olmuştu. Çünkü henüz Medine'de bir evi yoktu. Evi yapıldıktan sonra da arada sırada Ebu Eyyüb'ün yaşadığı mahalleye gider ve kaldığı evin çevresindeki evlerde yaşayanlarla ilgilenir, hallerini hatırlarını sorardı.

Bu metinde aşağıdakilerden hangisine önem verildiğine işaret edilmiştir?

- A) Akrabalarla ilişkiler
B) Komşuluk ilişkileri
C) Kardeşlerle iyi geçinme
D) Büyüklere saygılı davranma

4. Kureyş kabilesinin ileri gelenlerindendi. İnsanlar arasında soyluluğu ve iyilikseverliğiyle tanınmıştı. İnsanlara yardım etmeyi severdi. Mekke'ye dışarıdan gelen hacılara su dağıtma görevini üstlenmişti. O, yıllar önce unutulmuş zezem kuyusunun yerini Allah'ın (c.c.) yardımıyla bulmuş ve zezem suyunu yeniden çıkararak insanların faydasına sunmuştu.

Hayatı ile ilgili bilgi verilen kişi aşağıdakilerden hangisidir?

- A) Ebu Talip
B) Hz. Ebubekir
C) Abdulmuttalip
D) Peygamberimizin babası Abdullah

5. Peygamberimiz bir defasında arkadaşları ile birlikte yemek yiyordu. Bu sırada bir adam yanlarına geldi ve iki lokmada sofradaki yemeği bitiriverdi. Peygamberimiz şöyle dedi: "Eğer o kişi besmele çekseydi bu yemek hepimize yeterdi." (Tirmizi)

Peygamberimizin o kimseden söylemesini istediği sözün anlamı aşağıdakilerden hangisidir?

- A) Kovulmuş şeytanın şerrinden Allah'a sığınırım.
B) Övgü, âlemlerin Rabbi olan Allah'a olsun.
C) Allah'tan başka ilah olmadığına şahitlik ederim.
D) Rahman ve Rahim olan Allah'ın adıyla başlarım.

6. "Allah'ım! Sen tüm eksikliklerden uzaksın. Seni daima överim. Senin adın kutludur."

Türkçe anlamı yukarıdaki şekilde başlayan dua veya sure aşağıdakilerden hangisidir?

- A) Tahiyat
B) Salli Barik
C) Subhaneke
D) Fatiha

7. Selam; esenlik, huzur, mutluluk gibi anlamlara gelir. Selam verdiğimizde karşıdaki kimseye esenlik dilemiş oluruz. Allah, Kur'an-ı Kerim'de bir ayette bize selam verenlere daha güzel ve çok olan şekliyle cevap vermemizi istemiştir.

Buna göre aşağıdakilerden hangisi selam konusunda Allah'ın bizden istediğini ifade eder?

- A) Birbirimizin iyiliğini istememiz gerekir.
B) Selamı dikkatli vermemiz gerekir.
C) Tanıdığımız kimselere selam vermeliyiz.
D) Selamı konuşmaya başlamadan önce vermeliyiz.

8. İman esaslarından biri şöyle tanımlanabilir: "Allah'ın her şeyi bir ölçüye göre yaratmasıdır. Yine biz gerçekleşen her şeyin bu ölçüye göre meydana geldiğine inanırız. Kur'an-ı Kerim'de şöyle buyrulmaktadır: 'Gerçekten biz, her şeyi bir ölçü ve dengede yarattık.' (Kamer suresi 49. ayet)"

Hakkında bilgi verilen inanç esası aşağıdakilerden hangisidir?

- A) Peygamberlere iman
B) Meleklerle iman
C) Ahiret gününe iman
D) Kader ve kazaya iman

9. Peygamberimiz bir hadisinde şöyle buyurmuştur: "Rabbin hoşnutluğu anne babanın hoşnutluğuna bağlıdır..." (Tirmizi)

Bu hadisi kendisine ilke edinen bir kimse ile ilgili aşağıdakilerden hangisi söylenemez?

- A) Anne babasını kıracak işler yapmama ya dikkat eder.
B) Anne babasının kendisinden istediklerini göz ardı eder.
C) Allah'ın rızasını kazanmak için anne babasını sevindirecek işler yapmaya çalışır.
D) Anne babasının üzüleceği kötü sözler söylemekten çekinir.

10. Kişi, bu ibadeti yaparak cimrilik ve bencilik gibi kötü duygu ve düşüncelerden uzaklaşır. Ayrıca ihtiyaç sahiplerinin ihtiyaçlarını gidermenin manevi huzurunu yaşar. Bu aynı zamanda toplumda mutluluğun artmasına vesile olur. Bunun için zengin Müslümanların muhtaç kimselere yardım etmesi önemli bir ibadettir.

Metinde aşağıdakilerden hangisinin yararları anlatılmaktadır?

- A) Namaz
B) Hac
C) Zekât
D) Oruç

Din Kültürü ve Ahlak Bilgisi testi sona ermiştir. Lütfen Diğer Teste Geçiniz.

Cevap Formunuzda Cevaplarınızı Bir Sonraki Bölüme Kodlayınız.


1. Jane is British. She is from


Boş bırakılan yere aşağıdakilerden hangisi getirilmelidir?


- A) United States
- B) England
- C) Russia
- D) Germany


2. I get up early in the mornings.
I wash my hands and my face.
I have a big breakfast.

Aşağıdaki resimlerden hangisinin yukarıdaki cümlelerden biriyle doğru ilişki bulunmamaktadır?


A) 

B) 

C) 

D) 

3. Resme göre boş bırakılan yeri uygun ifadeyle doldurunuz.



This is my favorite free time activity. I like

- A) singing a song.
- B) reading a book.
- C) playing chess.
- D) watching cartoons.

4. Can: Can you give me your pencil?

Mert:

Mehmet: Thanks.

Diyalogda boş bırakılan yere aşağıdakilerden hangisi getirilmelidir?

- A) Sorry.
- B) I don't know.
- C) Here, you are.
- D) Yes, I like.

5. Alex:

Nicholas: I'm from France.

Diyalogdaki cevaba göre boş bırakılan yere gelmesi gereken soru aşağıdakilerden hangisidir?

- A) Where are you from?
- B) Where is he?
- C) What is your name?
- D) May I come in please?

Sınav sona ermiştir. Cevaplarınızı kontrol etmeyi unutmayınız.

